

กิจกรรมส่งเสริม

การติดเลขเป็น

โดย

นางจุฑามาศ ศรีใส

ครูชำนาญการพิเศษ โรงเรียนอนุบาลชัยภูมิ



เกมถอดรหัส

แบ่งกลุ่ม

กลุ่มละประมาณ 8 คน

แต่ละคนจะได้โจทย์ที่
แตกต่างกันไป เมื่อได้
คำตอบให้นำมาเทียบกับ
ตัวอักษรปริศนา

เมื่อได้ครบทุกคนแล้ว
ให้นำมาเรียงต่อกันเป็นคำ
ให้ถูกต้อง

$1. 791 \div 8 = ?$

$2. 3,348 \div 6 = ?$

$3. 3,595 \div 5 = ?$

$4. 149 \div 8 = ?$

$5. 1,560 \div 8 = ?$

$6. 2,528 \div 4 = ?$

$7. 1,431 \div 9 = ?$

$8. 1,877 \div 7 = ?$

$9. 8,892 \div 9 = ?$

$10. 3,160 \div 5 = ?$

$11. 636 \div 4 = ?$

$12. 3,458 \div 3 = ?$

$13. 3,906 \div 7 = ?$

$14. 4,314 \div 6 = ?$

$15. 6,236 \div 3 = ?$

$16. 9,876 \div 2 = ?$

A	B	C	D	E	F	G
632	348	98 គេង 7	520	512	712	18 គេង 5
H	I	J	K	L	M	N
89 គេង 7	1,152 គេង 2	204 គេង 1	268	988	18 គេង 3	719
O	P	Q	R	S	T	U
558	268 គេង 2	452	195	2,078 គេង 2	159	268 គេង 1
V	W	X	Y	Z	♥	★
2,548	427	2,940	431	18	4,438	4,938

CONGRATULATIONS



อายุเท่าไร



คุณแม่



อายุ 79 ปี



คุณพ่อ



อายุ 45 ปี



คุณปู่



อายุ 7 ปี



คุณย่า



อายุ 76 ปี



ชมพู่





คุณแม่



อายุ 79 ปี



คุณพ่อ



อายุ 45 ปี



คุณปู่



อายุ 7 ปี



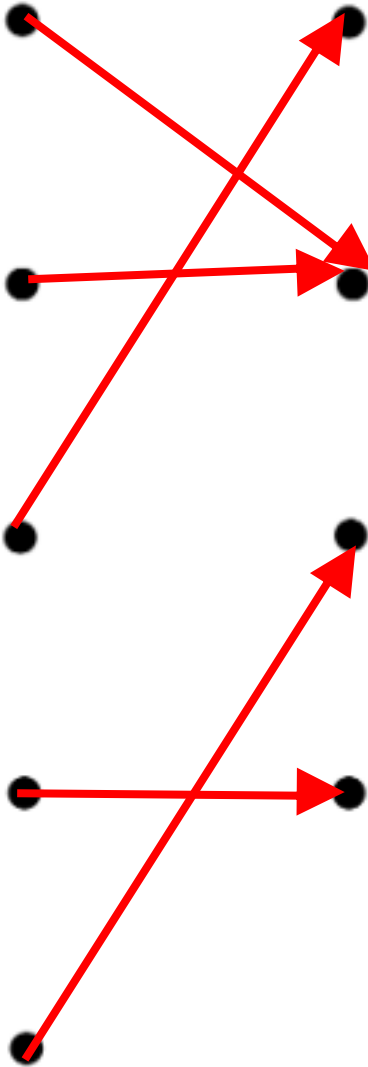
คุณย่า



อายุ 76 ปี



ชมพู่





79

สถานการณ์คำถาม

ประโยคสัญลักษณ์

ตอบ



76

1) อีก 12 ปีข้างหน้า แม่มีอายุกี่ปี

$$45 + 12$$

57



45

2) พ่อและแม่มีอายุรวมกันกี่ปี

$$45 + 45$$

90



45

3) ปู่และย่ามีอายุต่างกันกี่ปี

$$79 - 76$$

3



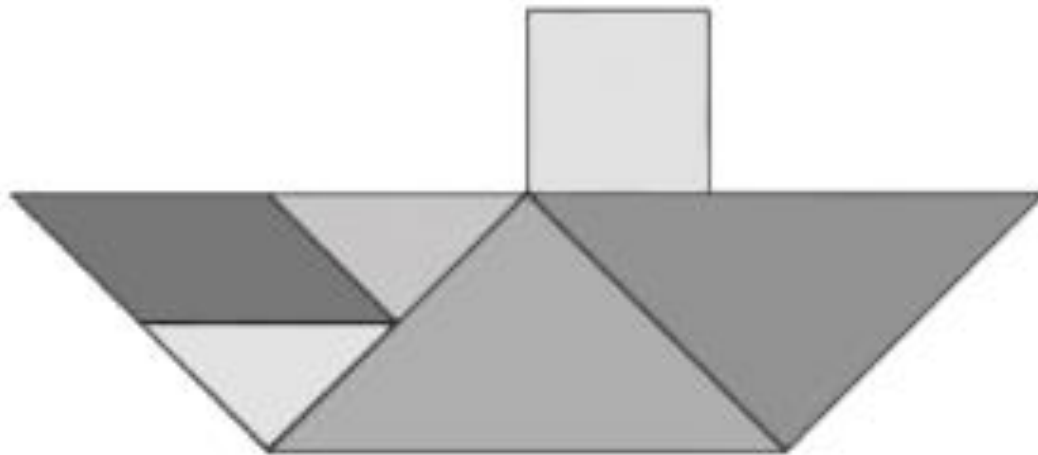
7

4) พ่อมีอายุมากกว่าชมพู่กี่ปี

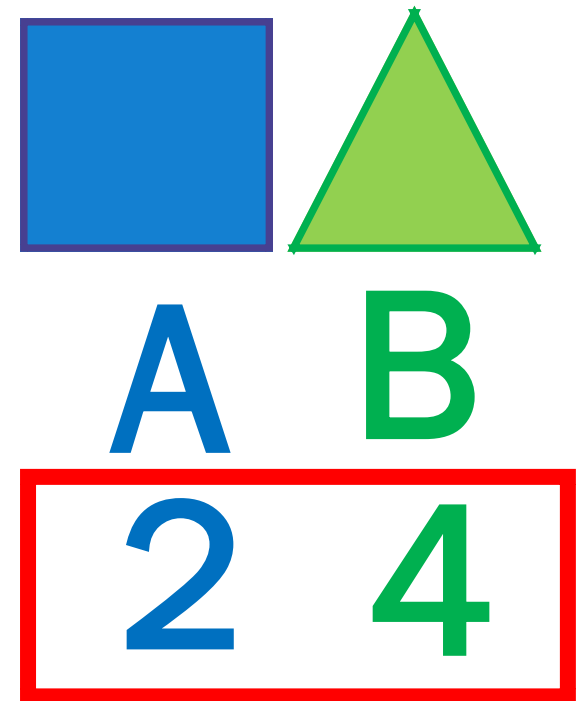
$$45 - 7$$

38

ในการสร้างรูปเรขาคณิตรูปหนึ่ง โดยใช้ชิ้นส่วน
รูปสามเหลี่ยม จำนวน A รูป และชิ้นส่วนรูปสี่เหลี่ยม
จำนวน B รูป มาเรียงต่อกันโดยไม่มีส่วนที่ซ้อนทับกัน
ดังรูป



เมื่อ AB เป็นจำนวนนับสองหลัก
จงหาว่า AB คือจำนวนใด



หลังจากที่เด็กสี่คนซื้อลูกแก้วมาเพิ่มคนละสี่ลูกแล้ว
เด็กแต่ละคนมีจำนวนลูกแก้วดังนี้

โรเซ่ มีลูกแก้ว 9 ลูก

เจนนี่ มีลูกแก้ว 13 ลูก

ลิซ่า มีลูกแก้ว 11 ลูก

และ จีซู มีลูกแก้ว 10 ลูก

จงหาว่าก่อนซื้อลูกแก้วมาเพิ่ม เจนนี่กับจีซูมีลูกแก้ว
รวมกันกี่ลูก

ให้ ■ เป็นจำนวนนับสองหลัก ซึ่งเลขโดดในหลักหน่วย
ของ ■ คือ 3 และผลลัพธ์ของ ■ - 7 มีเลขโดดใน
หลักสิบคือ 5 จงหาว่า ■ คือจำนวนใด

$$\begin{array}{r} \boxed{63} \\ - 7 \\ \hline 56 \end{array} \quad \blacksquare = 63$$

ให้ A B และ C เป็นเลขโดด ที่สอดคล้องกับการบวก
จำนวนนับต่อไปนี้

$$\begin{array}{r} 2 \ A \ 9 \\ 8 \ 4 \ B \\ \hline 1 \ C \ 4 \ 3 \end{array} +$$

จงหาว่าจำนวนนับสามหลัก ABC คือจำนวนใด

พีไอเอนาพับนกกกระดาศ จำนวน 4 ตัว ใช้เวลา 20 นาที
ถ้าพีไอเอนาเริ่มพับนกกกระดาศจำนวน 10 ตัว เวลา
10 นาที 20 นาที และพับเสร็จในเวลา A นาที
B นาที จงหาค่าของ $A + B$

*(การพับนกกกระดาศแต่ละตัวใช้เวลาเท่ากันและไม่มี
การหยุดพัก)*

จำนวนนับ 2 จำนวน ที่บวกกัน เท่ากับ 20

จำนวนนับ 3 จำนวน ที่บวกกันได้เท่ากับ 20

จำนวนนับ 4 จำนวน ตั้งแต่ 1 – 6
บวกกัน เท่ากับ 24

กิจกรรมลูกเต๋าชวนคิด



■ เงื่อนไข มีลูกเต๋า 2 - 4 ลูก

■ ข้อจำกัด ลูกเต๋า มี 6 หน้า คือ หน้า 1- 6

ถ้านำมาแต้มลูกเต๋าบวกกัน

ผลลัพธ์ที่ได้ต้องไม่เกิน



ติดเลขเป็น

หมายถึง มีวิธีการติดต่อกลายรูปแบบ

และสามารถนำไปประยุกต์ใช้ได้